

11.03.2020 EVERWIN VIDHYASHRAM SR. SEC. SCHOOL Marks: 25
 STD: V YA-COMPREHENSIVE REVISION PROGRAMME Time: 1hr
 [FN] (Daz, Fab, Mar) ENGLISH (PART – II)

I. Synonyms: 2x1=2
 1. Companion - 2. Steep -

II. Antonyms: 2x1=2
 3. Jerk X 4. Dropped X

III. Frame sentence: 1x1=1
 5. Brought -

IV. Annotation: 1x2=2
 6. "He never let anyone play with his train, He's nobody friend".
 a) Which vehicle is mentioned in the above lines?
 b) Why didn't the boy allow others to play with his train?

V. Memoriter: 1x4=4
 7. Write first 4 lines of the poem "Team Work".

VI. Answer the following in short: (Any 2) 2x2=4
 8. What are the things the girl does not want to share?
 9. Why did the train suddenly slow down?
 10. What did the farmer's wife give Gulliver for dinner?

VII. Answer in paragraph: 1x3=3
 11. Write down the experience of Gulliver.

VIII. Literature: Fill in the blanks: 4x½=2
 12. The shepherd arrived at _____ palace.
 13. The king malmot was a _____ man.
 14. The king trapped him by asking _____ questions.
 15. After hearing the Shepherd's answer the king was _____.

IX. Grammar: Do as directed: 10x½=5
 A. Punctuate the following sentence:
 16. What are you doing here? asked Tina.
 B. Use capital letters wherever needed:
 17. The coldest place on earth is vostok in Antarctica.
 C. Fill in the blanks with the correct tense of the verbs:
 18. "I am baking a cake", said the chef. The chef said that he ___ a cake.(bake)
 19. "I feel relaxed", said Ahmad. Ahmad said' that he ___ relaxed. (feel)
 D. Change the sentences in direct speech into indirect speech:
 20. Jack said to Marc, "I am busy today".
 21. Zara said to her mother, "I am hungry".
 E. Choose the correct option that is shown by each statement:
 22. Teacher might ask us to perform a play
 a) Offer b) Possibility c) Ability

F. Match the sentences to the tenses:
 23. We go to school every day - Present perfect
 24. We are doing a grammar exercise - Simple present
 25. We have just returned from school- Present continuous

11.03.2020 EVERWIN VIDHYASHRAM SR. SEC. SCHOOL Marks: 25
 STD: V YA-COMPREHENSIVE REVISION PROGRAMME Time: 1hr
 [FN] EVS (PART – II)
 (Chee, Cre, Emi, Fas, Plea, Won)

I. Fill in the blanks: 3x1=3
 1. The ____ plant eats insects.
 2. During ____ victims were moved from the affected area with the help of
 army jawans.
 3. ____ was the coach of afsana's team.

II. State True or False: 2x1=2
 4. Embryo is the tiny plant inside a seed.
 5. Earthquake is a man-made disaster.

III. Answer in short: 4x2=8
 6. a) Define Germination. (OR)
 b) Write the names of few women players and games they play.
 7. a) Define Ritcher scale. (OR)
 b) What do you understand by 'Gender Bias'?

8. What are the 3 main parts of a seed?
 9. What is an Earthquake?

IV. Answer in paragraph: 2x4=8
 10. a) What are the precautions to be taken in case of an Earthquake?
 (OR)
 b) Define how the female gender crossed the wall in the sports field.

11. Explain the process of Germination without diagram.

V. Write the scientific term for the following: 2x1½=3
 12. Seismograph - 13. Coach -

VI. HOTS: 1x1=1
 14. Have you ever seen people in your area helping each other? When?

I. Multiple choice questions: 5x1=5

- A ____ shows the main roads in a particular area.
 - Direction map
 - Route map
 - Diagrammatic
 - None
- The sum of the length of all sides of a plane (or) figure is called _____.
 - Area
 - Perimeter
 - Volume
 - Boundary
- A pair of angles is said to be _____ if the sum of their measures is 180° .
 - Complementary
 - Complete angle
 - Straight angle
 - Supplementary
- A _____ is a closed figure made up of line segments.
 - Straight line
 - Polygon
 - Curve
 - None
- The area of a square is 100cm^2 . Its side is _____.
 - 10cm
 - 20cm
 - 1000cm
 - 30cm


II. Match the following: 5x1=5

- | | | |
|-----------------------------|---|-----------------------------|
| 6. Perimeter of a rectangle | - | Two sides equal |
| 7. Isosceles triangle | - | Direction |
| 8. Pentagon | - | Sq. units |
| 9. North | - | $2 \times (\ell + b)$ units |
| 10. Area | - | 5 sides |

III. Solve the following: 3x2=6

11. Geetha made a rectangular greeting card of length 12cm and breadth 5cm. Find its area?

12. Draw a polygon with 6 sides and name it?

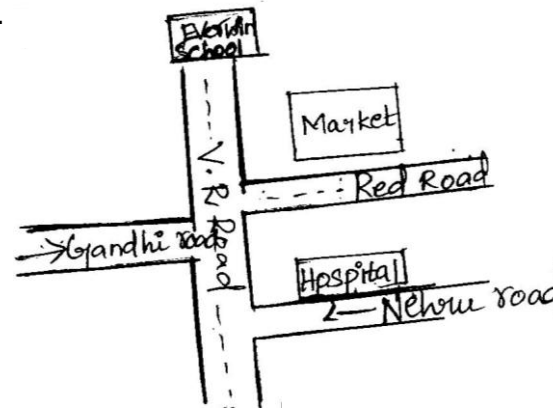
13. Draw the given figure in 2cm grid. 

IV. Answer the following: (Any 3) 3x3=9

14. Draw the angle 90° using a protractor.

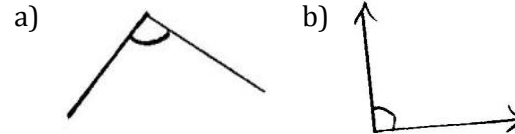
15. Manju made a greeting card with length 11cm and perimeter is 120cm. Find its width?

16.



- In which direction Everwin school is located.
- Which building on this map is nearest to Nehru road?
- If you are walking from Gandhi road, along which road market is located?

17. Draw anything of your choice around the angle shown and also mention the types of angle it is.



அ. பொருள் தருக: 2x1=2

1. நீதி நூல் - 2. சிலம்பு -

ஆ. எதிர்ச்சொல் எழுதுக: 2x1=2

3. வேகமாக X 4. சிறுவன் X

இ. பிரித்து எழுதுக: 2x½=1

5. கொடைத் திறம் - 6. அன்புடைமை -

ஈ. சேர்த்து எழுதுக: 2x½=1

7. வீரம் + கலை - 8. சிலம்பு + ஆட்டம் -

உ. கோடிட்ட இடத்தை நிரப்புக: 2x1=2

9. தமிழறிஞர்கள் பலரை உருவாக்கிய பெருமைக்குரியவர்

10. திருக்குறள் எனப் போற்றப்படுகிறது.

ஊ. சரியான விடையைத் தேர்ந்தெடுத்து எழுதுக: 2x½=1

11. "குயில் பாட்டு" - நூலை எழுதியவர் யார்

அ) பாரதியார் ஆ) பாரதி தாசன்

இ) வாணிதாசன் ஈ) புதுவை சிவம்

12. "மஞ்சு விரட்டு" - என்பதைக் குறிக்கும் விளையாட்டு

அ) மற்போர் ஆ) ஏறுதழுவுதல் இ) சிலம்பாட்டம் ஈ) வில்வித்தை

எ. வாக்கியத்தில் அமைத்து எழுதுக: 1x1=1

13. மணியோசை -

பகுதி - II

அ. மனப்பாடப் பகுதி: (3)

14. 'நயனொடு' - என்று தொடங்கும் திருக்குறளை அடிமாறாமல் எழுதுக.

15. 'அரம்போலும்' - எனத் தொடங்கும் திருக்குறளை அடிமாறாமல் எழுதுக.

பகுதி - III

அ. எவையேனும் நான்கு (4) குறுவினாக்களுக்கு மட்டும் விடை தருக: 4x1½=6

16. ஏறுதழுவுதல் என்றால் என்ன?

17. தமிழர்களின் வீரக்கலைகளுள் இரண்டைக் குறிப்பிடுக.

18. பிரபஞ்சனுக்கு சிறப்பைச் சேர்த்த நூல் எது?

19. பழமொழி என்பது யாது?

20. நரி, மானை எங்கு அழைத்துச் சென்றது?

21. பண்பில்லாதவன் பெற்ற செல்வம் எவ்வாறு பயனிலாது போகும்?

ஆ. ஏதேனும் ஒரு சிறுவினாவிற்கு மட்டும் விடையளிக்கவும்: 1x2=2

22. பறவைக் குஞ்சுகளை எடுக்க நினைத்த தமிழ் மணிக்கு தாய் கூறிய அறிவுரை யாது?

23. மரபுத் தொடர் என்றால் என்ன? ஓர் எடுத்துக்காட்டு தருக.

பகுதி - IV

அ. பத்தியைப் படித்து வினாக்களுக்கு விடையளிக்கவும்: 4x1=4

(ஒரே வாார்த்தைகளில் விடையளிக்கவும்)

தெருக்கூத்து இன்றைய நாடகங்களுக்கு அடிப்படையாய் தெருக்களில் நடக்கப்பட்ட கலையாகும். தெருக்கூத்து கிராமத்தைச் சார்ந்த கலைஞர்களாலேயே நிகழ்த்தப்படுகிறது. அதன் கதைகள் இராமாயணம், மகாபாரதம், பழமையான புராணங்களில் இருந்து எழுதப்பட்டவையே. இன்று கிராமப் புறங்களில் மிகவும் புகழ் பெற்றது தெருக் கூத்து.

வினாக்கள்:

1. இன்றைய நாடகங்களுக்கு அடிப்படை.

2. தெருக் கூத்து யாரால் நிகழ்த்தப்படுகிறது?

3. பழமையான புராணங்கள் யாவை?

4. இது எங்கு புகழ்பெற்றது?

I. शब्दार्थ :

1. महत्वपूर्ण - 2. भुव्यङ्ग - 3. रोज़ - 4. थाम लेना - $4 \times 1 = 4$

II. विलोम शब्द :

1. प्रश्न x 2. इधर x 3. छोटी x 4. अंदर x $4 \times 1 = 4$

III. वचन बदली :

1. मैज़ - 2. रौटी - 3. चटाई - 4. कैला - $4 \times 1 = 4$

IV. रिक्त स्थान की पूर्ति :

1. किसी भी जगह का पिनकोड छे _____ का होता है। $4 \times 1 = 4$
 2. मेरा _____ भूख से गड़बड़ कर रहा है।
 3. _____ में अब पूरे समय पानी नहीं आता।
 4. परीक्षा के बारे में _____ में खाम सूचना आने वाली है।

V. प्रश्नों के उत्तर :

6 marks

1. पुराने जमाने में संदेश किसके द्वारा भेजे जाते हैं? (1).
 2. कौकी के घर में कौन-कौन से मित्र आए? (2).
 3. बाघ साश दिन क्या करता है? (2).
 4. जेदी अपना पानी लेकर किससे मिल जाती है? (1).

VI. पत्र लेखन :

1 x 5 = 5

स्वच्छता का महत्व बताते हुए अपनी सखी को पत्र लिखिए :