

09.03.2020 EVERWIN VIDHYASHRAM SR. SEC. SCHOOL Marks: 25  
STD: VI YA-COMPREHENSIVE REVISION PROGRAMME Time: 1hr  
(AN) (Attr, Fab, Won) ENGLISH (PART – II)

I. Synonyms: 2x1=2

1. Enamoured - 2. Hallooing -

II. Antonyms: 2x1=2

1. Gently X 2. Trained X

III. Frame sentence: 2x1=2

1. Gradually - 2. Gazed -

IV. Annotation: 1x2=2

1. 'Warships' cried king Henry then there were nine.

a) When did king Henry cry?

b) Why did he cry?

V. Answer the following in short: (Any 2) 2x2=4

1. In what way did the All India Handicraft Board work for the cause of the people of Mithila.

2. Why did the author not want to dive?

3. Mention the themes of "Indian Weavers".

VI. Answer in paragraph: 1x4=4

1. Jot down the story of "The Cop and the Anthem".

VII. Notice Writing: 1x4=4

1. You are the head Boy / Girl of Everwin Vidhyashram Kolathur. Write a notice to inform the students of class 5 and 6 about an inter school English poetry competition to be held on March 10<sup>th</sup> 2020.

VIII. Grammar: 10x½=5

a) Fill in the blanks with suitable tenses:

1. The Sahara desert \_\_\_\_\_ (receive) very little rainfall. (Simple present)

2. I \_\_\_\_\_ (meet) Karthik many times at Mita's house (Present Perfect)

3. The train \_\_\_\_\_ (arrived) when we reached the station. (Past perfect)

4. The cat \_\_\_\_\_ (jump) out of the window. (Simple past)

5. They \_\_\_\_\_ (play) when their mother called them. (Past continuous)

b) Fill in the blanks with suitable preposition:

6. Kharagpur is halfway \_\_\_\_\_ (between / among) Kolkata and Jamshedpur.

c) Read the sentence and state the type of sentence:

7. What a wonderful day! \_\_\_\_\_.

d) Complete the sentence with suitable interjection:

8. \_\_\_\_\_! We have won the match!

e) Change the sentence from direct to indirect speech:

9. Seeta said, "I am happy".

f) Punctuate the below sentence:

10. we went to shimla delhi and kolkata.

09.03.2020 EVERWIN VIDHYASHRAM SR. SEC. SCHOOL Marks: 25  
STD: VI YA-COMPREHENSIVE REVISION PROGRAMME Time: 1hr  
(AN) (Cheerful) MATHS (PART – II)

I. Multiple choice questions: 5x1=5

1. The decimals with the same number of decimal places are called \_\_\_\_\_ decimals.

a) Like b) Unlike c) Fractional d) None

2. The sum of the lengths of all sides of a plane figure or the lengths of its boundary is called \_\_\_\_\_.

a) Area b) Perimeter c) Volume d) Nets

3. Area of a rectangle is \_\_\_\_\_ sq. units.

a)  $4 \times S$  b)  $2 \times (\ell + b)$  c)  $\ell \times b$  d)  $S \times S$

4. A \_\_\_\_\_ is a collection of numbers gathered to give some information.

a) Tally mark b) Data c) Graph d) Frequency

5. A \_\_\_\_\_ represents data through pictures of objects.

a) Bar graph b) Pictograph c) Line graph d) None

II. Match the following: 5x1=5

6. Rectangular bars of equal width

drawn horizontally or vertically - 1 chain

7. 75 g - 100 paise

8. Perimeter of a square - Bar graph



9. 22 yards - 0.075kg

10. 1 rupee -  $4 \times$  side units

III. Solve the following: 3x2=6

11. Write each of the following as decimals (i) Three tens and four tenths.

(ii)  $50 + \frac{6}{10}$ .

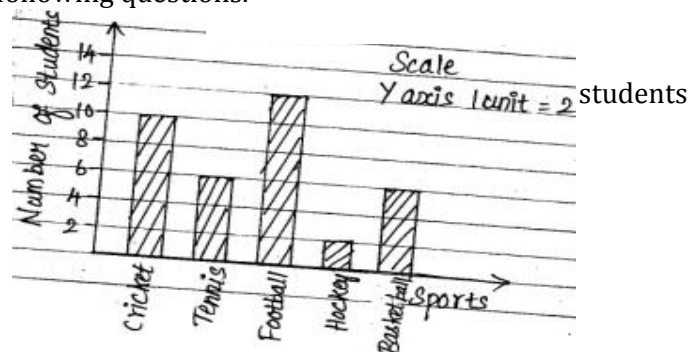
12. If  represents 4 flowers. then  = \_\_\_\_\_ flowers.

13. Find the perimeter of a square of side 20cm.

IV. Answer the following: (Any 3) 3x3=9

14. Anand had ₹10.45. He bought toffees for ₹6.30. Find the balance amount left with Anand?

15. The responses of 36 students surveyed about their favourite sport are represented as a bar graph. Read the bar graph and answer the following questions.



- How many students have cricket as their favourite sport?
- Which sport is the least popular among the students?
- Which two sports are preferred by an equal number of students?

16. Write the formula and to find the perimeter of a regular hexagon and an octagon of side 6cm.

17. Find the cost of levelling a square plot of side 50m at the rate of ₹20 per metre.

09.03.2020 EVERWIN VIDHYASHRAM SR. SEC. SCHOOL  
STD: VI YA-COMPREHENSIVE REVISION PROGRAMME  
(AN) (Act, Bri, Fas, Plea) SOCIAL (PART - II)

Marks: 25  
Time: 1hr

I. Fill in the blanks

4x1=4

- \_\_\_ was the most famous Buddhist Monastery.
- The western coastal plains are very \_\_\_\_\_.
- Gangabai rushed to the house of \_\_\_\_\_.
- The people of chizami Village do \_\_\_\_\_ farming.

II. Multiple choice questions:

3x1=3

- The percentage of large farmers in India is \_\_\_\_\_.  
a) 80      b) 20      c) 10      d) 5
- The USA has \_\_\_\_\_ time zones.  
a) Two      b) Four      c) Seven      d) Eight
- The most fertile river valley was \_\_\_\_\_.  
a) Kaveri      b) Yamuna      c) Ganga      d) Narmada

III. State True or False:

3x1=3

- The statues of Buddha were not made in Mathura and Taxila.
- Lakshadweep islands are coral islands.
- Larger houses have to pay less taxes.

IV. Answer in short (any 3)

3x2=6

- What is Municipal corporation?
- Where is Lakshadweep located?
- Name the seven countries that shares its land boundaries with India.
- Whom were 'Muvendar' referred in Sangam Poem?
- Write some sentences on the work of agriculture.

V. Answer in Detail (any 2)

2x4=8

- Write short notes on Bodhisattvas.  
b) How does the spread of Buddhism happened during the rule of Kushanas?
- How does the Municipal corporation get its money?
- How Unity in Diversity exist in India?

VI. HOTS:

1x1=1

- Pepper was known as \_\_\_\_\_ in Roman Empire.

பகுதி - I

- அ. பொருள் தருக:  $2 \times 1 = 2$   
 1. ஆழி - 2. மெய் -  
 ஆ. எதிர்ச்சொல் எழுதுக:  $2 \times 1 = 2$   
 3. கவலை X 4. உள்ளூர் X  
 இ. பிரித்து எழுதுக:  $2 \times \frac{1}{2} = 1$   
 5. வரிகடல் - 6. படைப்பிரிவு -  
 ஈ. சேர்த்து எழுதுக:  $2 \times \frac{1}{2} = 1$   
 7. பண்டம் + மாற்று - 8. பெருமை + வானம் -  
 உ. கோட்ட இடங்களை நிரப்புக:  $2 \times 1 = 2$   
 9. பெண்கள் படைப்பிரிவிற்கு தலைமை ஏற்றவர் .....  
 10. முடியரசனின் இயற்பெயர் .....  
 ஊ. சரியான விடையைத் தேர்ந்தெடுத்து எழுதுக:  $2 \times \frac{1}{2} = 1$   
 11. காளிதாசனின் தேனிசைப் பாடல்களை எதிரொலிக்கும் இடம் .....  
 அ) காவிரிக்கரை ஆ) வைகைக்கரை  
 இ) கங்கைக்கரை ஈ) யமுனைக்கரை  
 12. போர்க்களத்தில் வெளிப்படும் குணம் .....  
 அ) மகிழ்ச்சி ஆ) இன்பம் இ) வீரம் ஈ) அழகை  
 எ. வாக்கியத்தில் அமைத்து எழுதுக:  $1 \times 1 = 1$   
 13. ஊஞ்சல் -

பகுதி - II

- அ. மனப்பாடப் பகுதி: (3)  
 14. "பாயும் புயல்" . . . எனத் தொடங்கி, . . . நம் பொருள்கள் - ஐலசா - என முடியும் கடலோடு விளையாடு மனப்பாடப் பாடலை அடிமாறாமல் எழுதுக.

பகுதி - III

- அ. குறுவினா: (எவையேனும் நான்கிற்கு மட்டும்)  $4 \times 1\frac{1}{2} = 6$   
 15. நான்கு நிலங்கள் என்பன யாவை?  
 16. சொற்களின் வகைகளை எழுதுக?  
 17. அகவினா, புறவினா வேறுபாடு யாது?  
 18. சிறு வணிகம் பொருட்கள் யாவை?  
 19. தாரா பாரதியின் பாடலில் இடம் பெற்றுள்ள கவிஞர்களின் பெயர்களைக் குறிப்பிடுக?  
 20. அலையையும், மேகத்தையும் மீனவர்கள் என்னவாகக் கருதுகின்றனர்?  
 ஆ. சிறுவினா: (எவையேனும் ஒன்றிற்கு மட்டும் விடையளி)  $1 \times 2 = 2$   
 21. பழந்தமிழ் ஏற்றுமதி, இறக்குமதி செய்த பொருட்கள் யாவை?  
 22. தமிழன் தான் வாழ்ந்த நாட்டினை எவ்வாறு உருவாக்கினான்?

பகுதி - IV

- அ. கட்டுரை: (4)  
 23. 'உழைப்பே மூலதனம்' - என்னும் தலைப்பில் கட்டுரை எழுதுக.

$4 \times 2 = 2$

I. शब्दार्थ :-

1. सानी - 2. मायन - 3. दर्जन - 4. कमीश -

II. रिक्त स्थानों की पूर्ति :-  $3 \times 1 = 3$

1. बिंदी ने लोटे में \_\_\_\_\_ भिगी दी थी।  
 2. पत्रकार का नाम \_\_\_\_\_ था।  
 3. प्योनिकी \_\_\_\_\_ करता था।

III. प्रश्नों के उत्तर :-

6 marks

1. कला के बारे में बिखू महाराज का क्या कहना है? (2)  
 2. प्योनिकी नारे गिन्ता था कविता से हम क्या प्रेरणा ले सकते हैं? (2)  
 3. बिंदी कौन था? वह क्या काम निरंतर कर रहा था? (2)

IV. व्याकरण :-

अ. विशेषण के भेद लिखो। - 6 marks

1. गीत गीत है।  
 2. राजू दुकान से दी लीटर दूध लाया।  
 3. छोटे ने अपनी बहन को दी आम दिये।

आ. क्रिया पहचानकर उसके भेद लिखो।

1. बच्चे खा रहे हैं।  
 2. मैं दुकान से कलम लाया।  
 3. कलम पहचानकर लिखो।  
 1. लड़के पाठशाला जा रहे हैं।

V. पत्र लिखन :-  $1 \times 5 = 5$

शुक्र सुकित के लिए प्रधानाचार्य को पत्र

VI. संवाद लिखन :-

$1 \times 3 = 3$

किसी खेल के बारे में - दो लड़कों की बातचीत

09.03.2020 EVERWIN VIDHYASHRAM SR. SEC. SCHOOL Marks: 25  
STD: VI YA-COMPREHENSIVE REVISION PROGRAMME Time: 1hr  
(AN) (Eff, Ele) SCIENCE (PART - II)

I. I. Fill in the blanks: 3x1=3

1. An electric cell has \_\_\_\_\_ terminals.
2. Paper is not a \_\_\_\_\_ material.
3. A combination of bones and cartilages forms the \_\_\_\_\_ of the body.

II. State True or False: 2x1=2

4. The bones at the elbow are joined by a hinge joint.
5. A cylindrical magnet has only one pole.

III. Answer in short: 4x2=8

6. Define rest and motion. (OR)

What is the difference between a luminous and a non-luminous body?

7. Mention any two advantages of a dry cell.

8. Write the main properties of a magnet. (OR)

How is a bird's body adapted for flying?

9. Define reflection of light.

IV. Answer in paragraph: 2x4=8

10. a) Write a short note on types of motion. (OR)

b) Define transparent translucent and opaque with examples.

11. a) Explain the structure of an electric cell with a diagram. (OR)

b) Write a short note on a compass.

V. Scientific terms: 2x1½=3

12. Standard unit - 13. Conductor -

VI. HOTS: 1x1=1

14. Why can pace or a foot step not be used as a standard unit of length?

09.03.2020 EVERWIN VIDHYASHRAM SR. SEC. SCHOOL Marks: 25  
STD: VI YA-COMPREHENSIVE REVISION PROGRAMME Time: 1hr  
(AN) (Eminent) L2 TAMIL (PART - II)

பகுதி - அ

அ) பொருள் தருக: 2x1=2

1. மறம் - 2. ஆசை -

ஆ) எதிர்ச்சொல் எழுதுக: 2x1=2

3. உள்நூர் X 4. போற்றுதல் X

இ. பிரித்து எழுதுக: 2x½=1

5. மூச்சடக்கி - 6. ஐயாயிரம் -

ஈ. சேர்த்து எழுதுக: 2x½=1

7. தம் + உயிர் - 8. உலகம் + எங்கும் -

உ. நிரப்புக: 2x1=2

9. தொழிலும், ..... தமிழனின் வாழ்வை உயர்த்தின.

10. 'நாட்டுப்புற இயல் ஆய்வு' என்னும் நூலை தொகுத்தவர் .....

ஊ. உரிய விடையைத் தேர்ந்தெடு: 2x½=1

11. காளிதாசனின் தேனிசைப் பாடல்கள் எதிரொலிக்கும் இடம் .....

அ) காவிரிக்கரை ஆ) வைகைக்கரை

இ) கங்கைக்கரை ஈ) யமுனைக்கரை

12. பரிசு பெறும்போது உன் மனநிலை ..... ஆக இருக்கும்.

அ) கவலை ஆ) துன்பம் இ) மகிழ்ச்சி ஈ) சோர்வு

எ. வாக்கியத்தில் அமைத்து எழுதுக: 1x1=1

13. பன்மொழி -

பகுதி - ஆ

அ) மனப்பாடம்: 1x3=3

14. 'அன்னை நாட்டின். . .' எனத் தொடங்கி 'வாசலிது' எனமுடியும் மனப்பாடப்

பாடலை அடிமாறாமல் எழுதுக.

பகுதி - இ

அ) குறுவினா: (ஏதேனும் 4 மட்டும்) 4x1½=6

15. பண்டமாற்று முறைக்கு எடுத்துக்காட்டுத் தருக?

16. சுட்டு எழுத்துகள் என்றால் என்ன? அவை யாவை?

17. சொற்களின் வகைகளை எழுதுக?

18. பழம், வேர் ஆகியவற்றின் இயல்புகள் யாவை?

19. காரணப்பெயர் என்றால் என்ன?

20. தமிழன் எதற்காகக் கண்டங்களைச் சுற்றி வந்தான்? 1x2=2

ஆ) சிறுவினா: (ஏதேனும் 1 மட்டும்)

21. சிறுவணிகம், பெருவணிகம் - வேறுபடுத்துக.

22. அறுவகைப் பெயர்ச் சொற்களுக்கு எடுத்துக்காட்டுகள் தருக.

பகுதி - ஈ

அ) கட்டுரை: 1x4=4

23. 'உழைப்பே மூலதனம்' - என்னும் தலைப்பில் கட்டுரை எழுதுக.