

05.03.2020 EVERWIN VIDHYASHRAM SR. SEC. SCHOOL Marks: 25  
STD: VII YA-COMPREHENSIVE REVISION PROGRAMME Time: 1hr  
(FN) (Fab, Maj, Mar) ENGLISH (PART - I)

- I. Write the synonyms for the following: 2x1=2  
1. Grippid - 2. Astonished -
- II. Write the antonyms for the following: 2x1=2  
3. Reveal X 4. Fury X
- III. Frame sentences for the following: 1x1=1  
5. Risk Taker -
- IV. Explain with reference to context: 2x1=2  
6. "They hadn't known each other very well before. But now they felt they had been friends for years"
- a) Whom does 'they' refer to in the above extract?  
b) What made them feel too close with each other?
- V. Write short answers for the following: 3x1½=4½  
7. What kind of boy was Romi?  
8. What kind of experience did Rudson - Wayte's companion offer to narrate? How did he raise the curiosity of listeners?  
9. How did Jim justify that he is not a thief?
- VI. Write a paragraph for the following: (Any one) 1x2½=2½  
10. Romi takes as a challenge the task of crossing the fiery forest though he had the chance to stay back at his friend house. Do you think this was a wise decision? Give reasons to justify.  
11. What did the disappearance of the patch on the wall signify?  
12. For whom Mulan was concerned? What did Mulan decide in order to keep her father from joining the army?
- VII. Write a detail for the following: (Any one) 1x3=3  
13. Ma Ryan and Mrs. Moore react differently to the news of Larry getting ten years in jail. What does this difference tell us about their characters?  
14. Among the three remarkable things mentioned in story. Which was more effective?  
15. Can you sum up the events of the story in order? Write a brief summary of the lesson.

VIII. Lexical Skills: Comprehension: 3x1=3

Using 'ear' phones while driving can be far more dangerous than driving under the influence of alcohol. Latest research says drivers using these mobile phones as a means of faster day-today communications may

be heading for an accident. The study has shattered the common belief that drinking is the chief cause of the majority of road mishaps. Talking on mobile phone increases the risk to one's life compared to driving after being drunk. The findings of the study are based on the survey of several cases of road accidents. In fact, a study of the record of drivers involved in 699 such mistakes showed the risk of accident for those who talk on phone while driving was at least four times higher compared to those driving in a state of drunkenness.

On the basis of the above passage, answer the following questions:

16. What does the latest research say about using mobile phone?  
17. What is the risk of using mobile phone while driving?  
18. Using earphone while driving is very dangerous because \_\_\_\_\_.

(OR)

You recently bought a few books from store. Later you checked that some of the books have a few pages missing from them. Write a letter to the Manager of the store, asking him to replace the books.

IX. Grammar:

A. Rewrite the following sentences using punctuation marks and capital letters: 4x½=2

19. pardon me O god.  
20. mother should i stay or leave.  
21. delhi the capital of india stands on the banks of river yamuna.  
22. how beautiful the sky is

B. Identify the following sentences: 3x½=1½

Find out Assertive / Interrogative / Exclamatory / Imperative

23. May be if I go early today. I will get the tickets.  
24. I am going to rest for some time.  
25. Could you move a bit to your left, please?

C. Do as directed: 3x½=1½

26. A new flyover is being built in the city (circle the noun phrase)  
27. Outside / kept / wooden / the / table / [Put the words together to form a phrase]  
28. The dog barked in a furious manner [Underline the adverb phrase]

- I. Write the synonyms for the following: 2x1=2  
1. Endurance - 2. Slammed –
- II. Write the antonyms for the following: 2x1=2  
3. Notice X 4. Rugged X
- III. Frame sentences for the following: 1x1=1  
5. Obstacles -
- IV. Explain with Reference to Context: 2x1=2  
6. “Why do people climb mountains? It is not easy to answer the question. The simplest answer would be ‘Because it is there’. It presents great difficulties.”  
a) Why according to the author people climb mountains?  
b) Give synonym for the word ‘difficulties’?
- V. Write the short answers for the following questions: 3x1½=4½  
7. What were the three qualities that played a major role in narrator’s climb?  
8. Who started the confusion in the Professor’s house?  
9. His way of preparing food seems to be funny. In what way?
- VI. Write a paragraph for the following: (Any one) 1x2½=2½  
10. Each man carries within himself his own mountain peak. What does the narrator mean? How can one conquer it?  
11. What was the reaction of Professor Branestawm after the invention?  
12. What was the reaction of Colonel Dedshott after the invention?
- VII. Write a detail for the following: (Any one) 1x3=3  
13. Describe the narrator’s experience of climbing the huge summit. What did the narrator learn?  
14. List out the incidents of Professor Branestawm in short summary.  
15. Write a short summary of “Experiments”.

- VIII. Lexical skill: (3)  
16. Write a letter to your friend inviting him / her for the summer vacation in Goa. (OR)  
Develop a story for the following hints:  
The mice in a house . . . . . afraid of the cat hold a meeting . . . . . one proposes to tie a bell round the cat’s neck . . . . . all agree . . . . . who is to bell the cat? No mouse offers . . . . . the eat appears . . . . . all run away.
- IX. Grammar:  
A. Rewrite the following sentences in reported speech: (2)  
17. Dina said to me. ‘I solved the puzzle’.  
18. Lalit said to Hansita, ‘Wish you a speedy recovery from illness!’  
B. Write the following indirect into direct speech: (2)  
19. Jatin wished me a lovely day.  
20. My mother wished me a happy birthday.  
C. Join the sentence using the word given in bracket: (1)  
21. Rita might go for a swim. The weather is fine. (if)

SECTION - A


I. Multiple choice questions: 4x1=4

1. A \_\_\_\_\_ is a skeleton - outline of a solid that can be folded to make it.  
 a) Vertices    b) Edges    c) Net    d) None
2. Which term is used to calculate the length of boundary of a figure?  
 a) Perimeter    b) Area    c) Length    d) Breadth
3. The base and height of a parallelogram are 4cm and 5cm. Then its area is \_\_\_\_\_.  
 a)  $10\text{cm}^2$     b)  $20\text{cm}^2$     c)  $30\text{cm}^2$     d)  $40\text{cm}^2$
4. The cost price of an article is ₹700 and selling price is ₹650 then loss = \_\_\_\_\_.  
 a) ₹150    b) ₹250    c) ₹350    d) ₹50

SECTION - B

II. Answer the following: 2x2=4

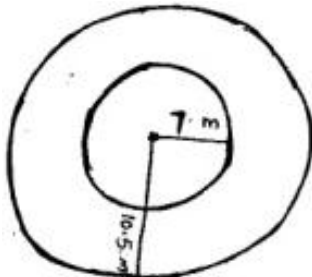
5. Find the area of a triangle whose base is 10cm and height is 15cm.
6. Draw the 3D shape for the given:



SECTION - C

III. Answer the following: 3x3=9

7. In the given figure, there is a circular track with outer radius 10.5m and inner radius 7m. Find the area of the track.



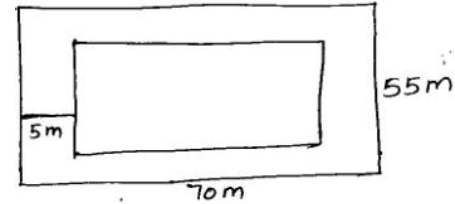
8. ₹8000 is borrowed at 5% rate of simple interest per annum. Find the interest and the amount to be paid at the end of 3 years.

9. Tushar bought a mobile phone for ₹6000. At What price he should sell so as to gain 10%.

SECTION - D


IV. Answer the following: 2x4=8

10. a) A garden is 70m long and 55m board. A path 5m wide is to be built inside and around it. Find the area of the path.



(OR)

- b) Find the perimeter of a semicircle whose diameter is 10cm (use  $\pi = 3.14$ )



11. a) Construct  $\Delta PQR$  where  $PQ = 6.5\text{cm}$ ,  $QR = 5\text{cm}$  and  $PR = 4\text{cm}$ .

(OR)

- b) Construct  $\Delta EFG$  where  $m\angle F = 90^\circ$ ,  $FG = 5.2\text{cm}$  and  $EG = 7\text{cm}$ .

SECTION - A

I. Multiple choice questions: 4x1=4

1. Find the reciprocal of  $\frac{13}{11}$  classify the reciprocal as proper fraction or

improper fraction.

- a)  $\frac{11}{13}$  (proper fraction)      b)  $\frac{13}{11}$  (Proper fraction)  
 c)  $\frac{13}{11}$  (improper fraction)      d)  $\frac{11}{13}$  (improper fraction)

2. A container contains 2 Red and 4 Black balls. What is the probability of drawing black ball?

- a) 1      b)  $\frac{1}{4}$       c)  $\frac{4}{7}$       d)  $\frac{3}{7}$

3. The total measure of the three angles of a triangle is \_\_\_\_\_.

- a)  $90^\circ$       b)  $30^\circ$       c)  $60^\circ$       d)  $180^\circ$

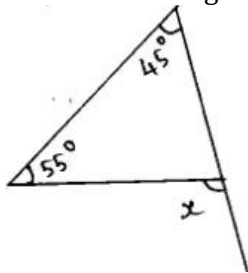
4. Which of the following is the mode of the data: 1, 1, 2, 4, 3, 2, 1, 2, 2, 4?

- a) 1      b) 2      c) 3      d) 4

II. Solve the following: 2x2=4

5. Find: a)  $\frac{1}{3}$  of 27      b)  $173.5 \times 100$

6. Find the value of the unknown exterior angle x in the given diagram.



III. Solve the following: 3x3=9

7. a) Find  $\frac{2}{5}$  of 60.      b) Find the product of  $\frac{6}{7}$  and  $2\frac{2}{3}$

8. One of the equal angle of an isosceles triangle is  $50^\circ$ . Find all the angles of the triangle.

9. The marks in mathematics test (out of 20) of 15 students is as follows  
 20, 15, 13, 9, 7, 12, 16, 13, 8, 10, 12, 13, 14, 5, 4.

- i) Find the highest and the lowest marks obtained by the students.  
 ii) Range of the data.      iii) Mode of the data.

IV. Solve the following: 4x2=8

10. a) The run scored in a cricket match by 11 players is as follows:  
 12, 8, 15, 8, 6, 8, 1, 9, 13, 9, 10. Find (i) Range (ii) Mode (iii) Median  
 (iv) Mean of the given data. (OR)

b) In  $\Delta PQR$ , angle  $Q = 90^\circ$ . If  $PQ = 8\text{cm}$  and  $QR = 6\text{cm}$  then find  $PR$ ?

11. a) The number of trees planted by Eco - Club of a school in different years is given. Represent the data on a bar-garph.

Year	2005	2006	2007	2008	2009	2010
No. of trees to be planted	35	50	90	65	40	105

(OR)

b) Weekly expenditure of a child is given. Draw a double-bar graph choosing appropriate scale.

Items	Chocolate	Beverages	Food	Misc
Week 1	25	20	40	15
Week 2	20	35	40	5

05.03.2020 EVERWIN VIDHYASHRAM SR. SEC. SCHOOL Marks: 25  
STD: VII YA-COMPREHENSIVE REVISION PROGRAMME Time: 1hr  
(FN) (Blis, Plea Glo) L2 TAMIL (PART - I)

- I. பொருள் தருக: 3x1=3  
1. நல்கினாள் - 2. காவற்புரை - 3. வணக்கரை -
- II. கோடிட்ட இடத்தை நிரப்புக: 4x1=4  
4. மயிலும் மானும் வனத்திற்கு ..... தருகின்றன.  
5. காளமேகப்பலவரின் இயற்பெயர் .....  
6. கருத்துப் படங்களை அறிமுகப்படுத்தியவர் .....  
7. திருநெல்வேலி ..... ஆற்றின் கரையில் அமைந்துள்ளது.
- III. மனப்பாடப் பகுதி: 1+2=3  
8. அ) 'இழுக்கு' - என முடியும் 'திருக்குறளை' அடிமாறாமல் எழுதுக.  
ஆ) 'மாரியென்று' - எனத் தொடங்கும் 'விருந்தோம்பல்' பாடலை அடிமாறாமல் எழுதுக.
- IV. சரியான விடையைத் தேர்ந்தெடுத்து எழுதுக: 3x½=1½  
9. பின்வருவனவற்றுள் விசுவாமிதன் பெற்ற தொழிற்பெயர் எது?  
அ) எழுது ஆ) பாடு இ) படித்தல் ஈ) நட  
10. உலகில் இல்லாத ஒன்றை உவமையாகக் கூறுவது ..... அணி.  
அ) இல்பொருள் உவமை அணி ஆ) உவமை அணி  
இ) எடுத்துக்காட்டு உவமை அணி ஈ) தற்குறிப்பேற்ற அணி  
11. தொழிற்பெயர் எத்தனை வகைப்படும்?  
அ) எட்டு ஆ) மூன்று இ) நான்கு ஈ) ஆறு
- V. குறுவினாக்கள்: (எவையேனும் மூன்றனுக்கு மட்டும் விடையளி) 3x1½=4½  
12. இரட்டுற மொழிதல் என்றால் என்ன?  
13. குகை ஓவியங்களில் இருந்து நாம் அறியும் செய்திகள் யாவை?  
14. தாய்மையின் ஓவியத்தில் நிறைந்திருக்க வேண்டியவை யாவை?  
15. தொழிற்பெயர் என்றால் என்ன? சான்று தருக.  
16. நாட்டுப் புறப்பாடல் என்றால் என்ன?
- VI. சிறுவினாக்கள்: (எவையேனும் ஒன்றனுக்கு மட்டும் விடையளி) 1x2½=2½  
17. கீரைப்பாத்தியும் குதிரையும் எக்காரணங்களால் ஒத்திருக்கின்றன?  
18. கேலிச் சித்திரம் என்றால் என்ன?  
19. திருநெல்வேலி நகர அமைப்புப் பற்றி கூறுக.
- VII. நெடுவினாக்கள்: (எவையேனும் ஒன்றனுக்கு மட்டும் விடையளி) 1x4=4  
20. திருநெல்வேலிப் பகுதியில் நடைபெறும் உழவுத்தொழில் குறித்தும், திருநெல்வேலிக்கும் தமிழுக்கும் உள்ள தொடர்பு பற்றியும் தொகுத்து எழுதுக.  
21. ஓவியங்கள் வகைகள் பற்றியும், அவை உணர்த்தும் செய்திகளைப் பற்றியும் விளக்குக.
- VIII. கடடுரை: (எவையேனும் ஒன்றனுக்கு மட்டும் விடையளி) 1x2½=2½  
22. தலைப்பு: நான் விரும்பும் தலைவர் அப்துல்கலாம். முன்னுரை - தோற்றம் - சாதனைகள் - முடிவுரை.  
23. தலைப்பு: காகளைப் பாதுகாத்தல். முன்னுரை - காடுகளில் வாழும் உயிரினங்கள் - மூலிகைப் பொருள்கள் - பயன்கள் - முடிவுரை.

05.03.2020 EVERWIN VIDHYASHRAM SR. SEC. SCHOOL Marks: 25  
STD: VII YA-COMPREHENSIVE REVISION PROGRAMME Time: 1hr  
(AN) (Blis, Plea Glo) L2 TAMIL (PART - II)

- I. பொருள் தருக: 3x1=3  
1. இன்சொல் - 2. சாந்தம் - 3. ஞானம் -
- II. கோடிட்ட இடத்தை நிரப்புக: 4x1=4  
4. இந்த வேலையை முடிக்க ஒரு கை குறைகிறது என்பது .....  
5. செல்வத்தின் பயன் ..... வாழ்வு.  
6. ஒரு பாடலின் இறுதி எழுத்தோ, அசையோ, சொல்லோ அடுத்து வரும் படலுக்கு முதலாக அமைவதை ..... என்பர்.  
7. முதுமை + மொழி ..... எனச் சேர்த்து எழுதுக.
- III. சரியான விடையைத் தேர்ந்தெடுத்து எழுதுக: 3x½=1½  
8. காயிதே மில்லத் தமிழ்மொழியை ஆட்சிமொழியாக்க வேண்டும் என்று பேசிய இடம் .....  
அ) சட்டமன்றம் ஆ) நகர் மன்றம் இ) நாடாளுமன்றம்  
9. பெயர்ச் சொற்கள் ..... வகைப்படும்.  
அ) நான்கு ஆ) ஐந்து இ) ஆறு  
10. மனித வாழ்க்கையில் தேவைப்படுவது .....  
அ) பணம் ஆ) பொறுமை இ) புகழ்
- IV. மனப்பாடம்: (3)  
11. 'வாயும் வயிறும்' - எனத் தொடங்கும் மலைப்பொழிவு பாடலின் முதல் நான்கு வரிகளை அடிமாறாமல் எழுதுக.
- V. குறுவினாக்கள்: (எவையேனும் மூன்றனுக்கு மட்டும் விடையளி) 3x1½=4½  
12. ஒரு நாட்டுக்கு எவையெல்லாம் அரண்களாக அமையும்?  
13. அறநெறிச்சாரம் - நூல் குறிப்பு எழுதுக.  
14. காயிதே மில்லத் அவர்களின் இயற்பெயர் என்ன?  
15. இந்த உலகம் யாருக்கு உரியது?  
16. ஆகுபெயர் எத்தனை வகைப்படும்? அவை யாவை?
- VI. சிறுவினாக்கள்: (எவையேனும் ஒன்றனுக்கு மட்டும் விடையளி) 1x2½=2½  
17. பூதத்தாழ்வார் ஞானவிளக்கு ஏற்றுமு முறையை விளக்குக:  
18. "வினை செயல்வகை" பற்றி வள்ளுவர் கூறும் கருத்துகளைக் கூறுக.
- VII. நெடுவினா: 1x4=4  
19. ஒப்புரவு நெறி என்னும் தலைப்பில் கூறப்பட்டுள்ள பொருளிட்டலும், ஒப்புரவும் பற்றி தொகுத்து எழுதுக.
- VIII. கடிதம்: 1x2½=2½  
20. காணாமல் போன மிதிவண்டியை கண்டு பிடித்து தருமாறு காவல் துறை ஆணையருக்கு கடிதம் எழுதுக. (அல்லது)  
பள்ளியில் முதல் மதிப்பெண் பெற்ற உன் அண்ணனைப் பாராட்டி கடிதம் எழுதுக.

- I गढ़वांरा पठकर प्रश्नों को उत्तर दीजिए : [2x1=2]
- सिंधु घाटी की सभ्यता कृष्ण में काठियावाड़ और पश्चिम में मकरान से हिमालय तक फैली हुई थी। सुदूर में जिन दो बड़े नगरों के अवशेष मिले हैं, उनके नाम हड़प्पा, मोहनजदारो हैं। इन अवशेषों से पता चलता है कि इस नगर की योजना बहुत आकृष्ट है।
1. सिंधु घाटी की सभ्यता कहाँ से कहाँ तक फैली थी?
  2. सिंधु घाटी की सुदूर में कौन दो बड़े नगरों के अवशेष मिले हैं?

II (क) शब्दार्थ लिखिए [2x1/2=1]

1. दालान -
2. दृग -

(ख) लिंग बदलकर लिखिए [2x1/2=1]

1. उड़ान -
2. चिंता -

(ग) वाक्य अनाओ [2x1/2=1]

1. आंति -
2. कारवासे -

(घ) वर्ण विच्छेद कीजिए [2x1/2=1]

1. रक्षक -
2. प्रयाण -

III. किसने किससे कहा [2x1=2]

1. बस अनाब, आप बात पक्की कर लीजिए

2. आजकल हर चीज नकली होती है।

IV (क) संज्ञकित शब्दों के कारक भेद बताओ :- [2x1=2]

1. मैं राज पौधों को पानी देता हूँ।

2. गंगा हिमालय से निकलती है।

(ख) संज्ञकित शब्दों के काल और अभेद लिखिए :- [2x1=2]

1. माँ खाना बनाती है -

2. शायद हम दिल्ली जाएंगे -

(ग) इन वाक्यों में अति विश्रम चिह्न लगाकर दोबारा लिखिए [2x1/2=1]

1. तुम कहाँ रहते हो

2. हाथ वह बेचारा मारा गया।

V एक शब्द में उत्तर दीजिए [2x1=2]

1. साँप कहाँ रहता था?

2. कितने विशेषज्ञ बुनाए गए थे?

VI किन्हीं दो प्रश्नों के उत्तर दीजिए [2x2=4]

1. अली मुहम्मद हल्दी और मिर्च में क्या मिला देता था?

2. शिवाजी का चेहरा क्यों तमतमा गया?

3. मौर्योपंत ने शिवाजी को क्या समाचार सुनाया?

VII किन्हीं एक प्रश्न को उत्तर विस्तृत में दीजिए [1x3=3]

1. साधु ने ताबीज के बारे में क्या बताया?

2. अष्टाचार के बारे में एक अनुच्छेद लिखिए।

VIII पत्र लेखन [1x3=3]

1. किसी अन्य विद्यालय से क्रिकेट मैच खेलने की अनुमति के लिए प्रधानाचार्य को एक आवेदन पत्र लिखिए।

2. प्रधानाचार्य को मौखिक शुल्क कम करने के लिए एक आवेदन पत्र लिखिए।

- I (क) शब्दार्थ लिखिए [2x½=1]  
1. प्रतिमा - 2. क्षीण
- (ख) विलोम शब्द लिखिए [2x½=1]  
1. सम्मानित x 2. दृश्य x
- (ग) पर्यायवाची शब्द लिखिए [2x1=2]  
1. पक्षी - 2. चौद -
- (घ) वाक्य बनाइए [2x½=1]  
1. घोषणा - 2. साधारण -
- (ङ) किसने किससे कहा [1x2=2]  
1. "बहुन जी आप सुनीता जी की माताजी हैं न"?
- II (क) इन शब्दों का अर्थ विच्छेद करके अर्थ बताइए [1x1=1]  
1. दिगंबर -
- (ख) निम्नलिखित समास विग्रह को समस्त पद बनाकर भेद लिखिए [1x1=1]  
1. ग्राम को गया हुआ।
- (ग) निम्नलिखित वाक्यों के अव्यय भेद बताइए [2x½=1]  
1. विद्यालय तक गया। 2. बच्चे धीरे-धीरे चल रहे हैं।
- III (क) निम्नलिखित प्रश्नों के एक शब्द में उत्तर दीजिए [2x1=2]  
1. लेखिका के माई का नाम क्या था?  
2. अमरकंटक किस राज्य में स्थित है?
- (ख) किन्हीं दो प्रश्नों को उत्तर दीजिए [2x2=4]  
1. लेखिका ने किन दो समारोहों का उल्लेख किया?  
2. धार्मिक दृष्टि से अमरकंटक का क्या महत्व है?  
3. लेखिका की माँ का क्या कहना था?
- (ग) किन्हीं एक प्रश्न को विस्तृत में उत्तर दीजिए [1x3=3]  
1. रविशंकर के बारे में अनुच्छेद लिखिए।  
2. अमरकंटक में रहने वाले लोगों के बारे में लिखिए।

- IV (क) दो मित्रों के बीच में खेल के बारे में (बातचीत) संवाद लिखिए।
2. पिता व पुत्र के बीच में संवाद लिखिए। (1x3=3)
- (ख) किन्हीं एक विषय पर 100 शब्दों से निबंध लिखिए।
1. समय का महत्व पर निबंध लिखिए।  
2. वन संरक्षण पर निबंध लिखिए।