

EVERWIN VIDHYASHRAM






13.02.2020

PA 4 - TAMIL - TT

UKG

படத்தைப் பார்த்து பெயர் எழுதுக

5 X 2 = 10

EVERWIN VIDHYASHRAM

13.02.2020

PA 4 - HINDI - TT

UKG

See the picture and write

5 x 2 = 10

