

28.08.19 EVERWIN VIDHYASHRAM Marks: 25  
STD: III CRP- I (FN)

EVS (PART I)

(BE,EN,EF,AT,FB,MJ)

I. Fill ups: 3x1=3

1. \_\_\_ have been put up in the ground to stay.
2. \_\_\_ live with us in our house.
3. Chhotu divided the \_\_\_ into different parts.

II. True or False: 3x1=3

1. Lata's house is not decorated.
2. Bhupen's group was the first to talk.
3. In Rajasthan the walls of the houses are very thick.

III. Match the following: 3x1=3

1. Igloo - crawl to and fro
2. Lazy Lizard - dry leaves
3. Rangoli - House of snow

IV. Value based points: 3x1=3

1. \_\_\_ house is made up of bamboo sticks, straw and mud.  
a) Pucca b) Igloo c) Kutcha
2. Space occupied by an object is called \_\_\_\_.  
a) Volume b) Mass c) Weight
3. Matter exists in \_\_\_ states.  
a) two b) three c) four.

V. Answer in short (Any 4) 4x1½=6

1. Define matter.
2. Why do we need a house?
3. How matter can be changed from one form to another?
4. What are permanent houses?
5. Define melting
6. What are the two types of temporary houses?

VI. Answer in paragraph: (Any 1) 1x3=3

1. Explain the changing states of matter.
2. List any four ways to keep our house clean.

VII. Diagram: 1x2=2

1. Draw Igloo.

VIII. Multiple choice questions 2x1=2

1. I am always on wheels.  
a) Tent b) Caravans c) Stilt d) Igloo
2. What is the standard liquid metal?  
a) Mercury b) Hydrogen c) Oxygen d) Helium.

28.08.19 EVERWIN VIDHYASHRAM Marks: 20  
STD: III CRP- I (AN)

EVS (PART II)

(BE,EN,EF,AT,FB,MJ)

I. Fill in the blanks: 2x1=2

1. We should \_\_\_ water.
2. Our \_\_\_ is our first school.

II. True or False: 2x1=2

1. Water can be reused.
2. Sara and habib are employed.

III. Match the following: 3x1=3

1. Dew - Clothes
2. Dhobi - Ice
3. Solid - Condensation

IV. Value Based Questions: 3x1=3

1. Unity is the main strength of a \_\_\_\_.
2. Brothers and sisters are also known as \_\_\_\_.
3. A large family is called \_\_\_ family.

V. Answer in short: (Any 2) 2x1½=3

1. Name the three forms of Water.
2. Write the different uses of water.
3. Define seasons.

VI. Answer in paragraph: 1x3=3

1. Explain the different types of weather.

VII. Diagram: 1x2=2

1. Draw Water Cycle.

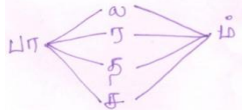
VIII. Multiple choice questions: 2x1=2

1. It is good to stay \_\_\_ on windy days (indoors/outdoors).
2. The name of strong winds \_\_\_\_\_. (Gale/Water).

28.08.19 EVERWIN VIDHYASHRAM Marks: 25  
STD: III CRP- I L2 தமிழ் (PART-I) (FN)

(BL,CR,AC,MR,EL,DZ)

- I. பொருள் தருக: 2x1=2  
1. பேரணி - 2. ஒலி -
- II. எதிர்ச்சொல்: 2x1=2  
1. புகழ்ச்சி x 2. பிறப்பு x
- III. சேர்த்து எழுதுக: 1x1=1  
1. எதிர் + புறம் -
- IV. பிரித்து எழுதுக: 1x1=1  
1. கைத்தட்டி -
- V. தமிழாக்கம்: 1x1=1  
1. School -
- VI. சரியான விடையளி: 2x1=2  
1. கதிரவன் இச்சொல் உணர்த்தும் பொருள்-----  
அ. சந்திரன் ஆ. சூரியன் இ. விண்மீன் ஈ. நெற்கதிர்  
2. "மரங்களுடன் இருந்தால் தப்பித்திருக்கலாம்" என்று கூறியது -----  
அ. சிங்கம் ஆ. புலி இ. முயல் ஈ. மான்
- VII. பொருத்தமான சொல்லை எடுத்து நிரப்புக: 2x1=2  
1. துணிப்பை என்பது ----- (எளிதானது/எலிதானது)  
2. நெகிழியை ஒழிப்போம் ----- காப்போம் (மன்வளம்/மண்வளம்)
- VIII. புதிய சொற்களை உருவாக்குக. 4x½=2



- IX. சிறுவினா (ஏதேனும் 2): 2x2=4  
1. பெரியவர் எந்த எண்ணிற்குச் செல்பேசியில் பேசினார்?  
2. காட்டைவிட்டு எவை வெளியேறின?  
3. பேருந்து எதில் மோதியது?  
4. மேரி இனி யாருடன் விளையாடப் போவதாகக் கூறினாள்?
- X. கடிதம் - விண்ணப்பக்கடிதம்: 1x3=3
- XI. இலக்கணம்: 1x2=2  
ஆ. சிறுவினா (ஏதேனும் 1)  
1. காலம் எத்தனை வகைப்படும்? அவை யாவை?  
2. உயிர் எழுத்துகளின் வகைகள் யாவை?  
3. நெடில் என்றால் என்ன? அவை யாவை?  
ஆ. இலக்கணப் பயிற்சி: 1x1=1  
1. நான் படம் வரைந்தேன் (இறந்தகாலம் / நிகழ்காலம்)  
2. சத்தம் என்பதைக் குறிக்கும் சொல் ----- (ஓசை/ ஆசை)
- XII. திறனறி வினா: 2x1=2  
1. கண்ணன் பெரியவருக்கு ---- கடக்க உதவி செய்தான்.  
அ. சாலையை ஆ. வீட்டை இ. காட்டை  
2. நெகிழி பயன்பாட்டால் ----- அதிகம்  
அ. நன்மை ஆ. தீமை இ. உண்மை.

28.08.19 EVERWIN VIDHYASHRAM Marks: 20  
STD: III CRP- I L2 தமிழ் (PART-II) (AN)

(CR,AC,MR,EL,DZ,BL)



- I. சரியான விடையளி: 2x1=2  
1. தகுதி இச்சொல் உணர்த்தும் பொருள் -----  
அ. தரம் ஆ. மரம் இ. கரம் ஈ. வரம்  
2. "சுமந்து" - இச்சொல்லின் பொருள் -----  
அ. தாங்கி ஆ. பிரித்து இ. சேர்ந்து ஈ. விரைந்து
- II. பொருத்தமான சொல்லை எடுத்து நிரப்புக: 4x½=2  
1. கழுதை - பொருள்களைச் சேகரிக்கும் வேலை  
2. முயல் - எச்சரிக்கைப் பணி  
3. சிங்கக்குட்டி - இரவுக்காவல்  
4. ஆந்தை - படைத்தளபதி
- III. சிறுவினா (ஏதேனும் 3): 3x2=6  
1. கரடி எந்தெந்த விலங்குகள் தகுதியற்றவை எனக் கூறியது?  
2. காட்டில் விலங்குகளின் கூட்டம் யார் தலைமையில் நடைபெற்றது?  
3. புலிராஜா, படைத்தளபதி பொறுப்பை யாருக்குக் கொடுத்தார்?  
4. ஆந்தைக்கு என்ன பதவி கொடுக்கப்பட்டது?





IV. "திருக்குறள் - கட்டுரை எழுதுக 1x3=3

- V. (அ) இலக்கண வினாவிற்கு விடையளி: 2x2=4  
1. மெய் எழுத்துக்கள் எத்தனை வகைப்படும்? அவை யாவை?  
2. வல்லினம் என்றால் என்ன? அவை யாவை?

- ஆ) நிரப்புக: 2x1=2  
1. புள்ளிகளை உடைய எழுத்துகள் ----- எனப்படும்.  
2. மெல்லிய ஓசை உடைய எழுத்துக்கள் ----- ஆகும்.

- VI. திறனறி வினா: 1x1=1  
1. தனித்திறமை பாடத்தில் ---- வெளியூர் சென்றது.  
அ. சிங்கம் ஆ. புலி இ. கரடி ஈ. யானை.

- I स्वर : अ ङ ओ :  $1 \times 3 = 3$
- II व्यंजन : क ङ ह  $1 \times 5 = 5$
- III खाली जगह भरिए :  $4 \times 1 = 4$
1. थ + अ = — 3. त + अ = —  
2. ठ + अ = — 4. र + अ = —
- IV दो अक्षरवाली शब्द लिखिए (any 3)  $3 \times 1 = 3$
- V तीन अक्षरवाली शब्द लिखिए (any 3)  $3 \times 1 = 3$
- VI चार अक्षरवाली शब्द लिखिए (any 2)  $(2 \times 1 = 2)$
- VII अंग्रेजी अर्थवाली शब्द लिखिए :-  $3 \times 1 = 3$
1. बातथ - 2. उपवन - 3. शब्द -
- VIII शब्दार्थ :-  $2 \times 1 = 2$
1. गगन - 2. डर -
- IX चित्र देखकर पढ़ना अक्षर लिखिए :-  $2 \times 1 = 2$
1.  - 2.  -

- I खाली स्थान भरिए  $4 \times 1/2 = 2$
1. प + उ = —  
2. द + — = ढ  
3. म + इ = —  
4. ध + ई = —
- II इ की मात्रा लगाइए  $4 \times 1/2 = 2$
- क प स न
- III ई की मात्रा लगाइए -  $4 \times 1/2 = 2$
- व ज ष ह
- IV क की मात्रा लगाइए  $4 \times 1/2 = 2$
- V अंग्रेजी अर्थ लिखिए  $4 \times 1 = 4$
- ① दिनांक ② विमान ③ मीठा ④ पशु
- VI शब्दार्थ लिखिए  $4 \times 1 = 4$
- ① कविता ② दीदी ③ पुजारी  
④ वीर
- VII चित्र के नाम लिखिए  $4 \times 1 = 4$
1.  - ②  -  
3.  - ④  -

28.08.19 EVERWIN VIDHYASHRAM Marks: 25  
STD: III CRP- I L3 தமிழ் (PART-I) (FN)  
(AM, GL, CH, FS, AR)

- I. உயிர் எழுத்துகள் முழுவதும் எழுதுக: (2)
- II. மெய் எழுத்துகள் முழுவதும் எழுதுக: (2)
- III. க் + இ - கி முதல் ன் + இ - னி வரையிலான "இ" வரிசை முழுவதும் எழுதுக: (4)
- IV. கோடிட்ட இடத்தை நிரப்புக: 2x1=2  
1. ---- கண்ணை முதல் வணக்கம்  
2. தாத்தா வைத்த ---- மரம் .
- V. சரியான விடையைத் தேர்ந்தெடுத்து எழுதுக: 2x1=2  
1. நரி தோட்டத்தில் எதைக் கண்டது?  
அ) திராட்சைக் கொத்து ஆ) கொய்யா இ) ஆப்பிள்  
2. எட்டாக் கனி ----- இ) கசக்கும்  
அ) புளிக்கும் ஆ) இனிக்கும்
- VI. பொருத்துக: 6x½=3  
1. க் + அ - ன்  
2. ன் + ஆ - ய்  
3. த் + இ - ழு  
4. ய் + ஈ - னா  
5. ழ் + அ - தி  
6. ன் + ஈ - க
- VII. விடுபட்ட எழுத்தை எழுதுக: 2x1=2  
1. கா ---- சா ---- டா ---- தா ----  
2. பா ---- யா ---- லா ---- ழா ---- றா ----
- VIII. பொருள் தருக: 1x1½=3  
1. வனம் - 2. துயரம் -
- IX. எதிர்ச்சொல் தருக: 1x1½=3  
1. அரிது x 2. துணிவு x
- X. தமிழாக்கம்: 2x1=2  
1. Wall - 2. Cloth -

28.08.19 EVERWIN VIDHYASHRAM Marks: 20  
STD: III CRP- I L3 தமிழ் (PART-II) (AN)  
(AM, GL, CH, FS, AR)

- I. ஊ வரிசையை எழுதுக: 1x3=3  
க் + ஊ - கூ - ன் + ஊ - னூ
- II. விடுபட்ட எழுத்தை எழுதுக: 1x3=3  
கு ஈ \_ னு \_ னு \_ னு \_ னு  
மு \_ ரு லு வு \_ ளு \_ னு
- III. பொருத்துக: 6x½=3  
1. ம் + ஊ - டு  
2. ட் + உ - மூ  
3. வ் + ஊ - ச  
4. ச் + உ - லூ  
5. ன் + ஊ - யு  
6. ய் + உ - நூ
- IV. சரியான விடையைத் தேர்ந்தெடுத்து எழுதுக: (டி, ன், ழு, ய) 3x1=3  
1. உ \_\_\_ ளே  
2. ப \_\_\_ த்தேன்  
3. கு \_\_\_ ந்தை
- V. சரியான விடையைத் தேர்ந்தெடுத்து எழுதுக: 2x1=2  
1. ஆற்றில் தண்ணீர் குடித்துக் கொண்டிருந்த விலங்கு ----.  
அ) சிங்கம் ஆ) புலி இ) குதிரை  
2. ---- இருக்கும் இடத்தினை தேடி மொய்க்கும் வண்டு போல்  
அ) தேன் ஆ) சீனி இ) கரும்பு.
- VI. பொருள் தருக: 2x1=2  
1. பூ - 2. கூடுதல் -
- VII. எதிர்ச்சொல் தருக: 2x1=2  
1. மூடி x 2. தூக்கு x
- VIII. தமிழாக்கம் தருக: 2x1=2  
1. Lock - 2. Flowers -

28.08.19 EVERWIN VIDHYASHRAM Marks: 25  
STD: III CRP- I (FN)

(IN,EM,WN,BR) MATHS (PART I)

I. Choose the correct answer: 3x1=3

- The answer we get from any two factor is called \_\_\_\_  
a) Multiplier b) factor c) product.
- $(3 \times 2) \times 5 = \underline{\quad} \times (5 \times 2)$   
a) 5 b) 3 c) 2
- The angle of perpendicular line is \_\_\_\_?  
a)  $180^\circ$  b)  $90^\circ$  c)  $0^\circ$

II. Fill in the blanks: 2x1=2

- The product of 2 even numbers is always \_\_\_\_ number.
- A \_\_\_\_ shows an exact location.

III. Match: 3x1=3

- $\overline{XY}$  - Curved line
- $25 \times 0$  - line
- ( ) - 0

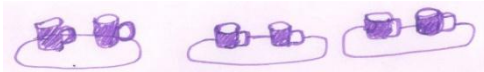
IV. Answer the following (any 3): 3x2=6

- Multiply:  $26 \times 5$
- Write the Multiplicative fact for the following:  
a)  $5+5+5 = 15$  b)  $3+3=6$
- If a spider has 8 legs. How many legs will 3 spiders have?
- Write the missing numbers.  
a) \_\_\_\_  $\times 3 = 24$  b) \_\_\_\_  $\times 6 = 24$

V. Answer the following: (Any 2) 2x3=6

- Multiply:  $23 \times 14$
- There are 13 chairs arranged in a row. Find how many chairs will be arranged in 5 such rows?
- The cost of one notebook is ₹ 5. Find the cost of 5 such note books.

4. Answer the following:



- How many cups are there in each plate?
- How many cups are there in 3 plates?

VI. Geometry: 2x2=4

- Draw a line segment i)  $\overline{AB} = 5\text{cm}$  ii)  $\overline{CD} = 3.5\text{cm}$

VII. HOTS: 1x1=1

- The addition fact for  $5 \times 3$  is  
a)  $3+3+3+3+3$  b)  $3+3+3$  c)  $5+5+5+5$

28.08.19 EVERWIN VIDHYASHRAM Marks: 20  
STD: III CRP- I (AN)

(IN,EM,WN,BR) MATHS (PART II)

I. Fill in the blanks: 3x1=3

- The \_\_\_\_ of a number depends on its place in the number.
- The numbers that are added are called \_\_\_\_.
- 10 less than 33 is \_\_\_\_.

II. Choose the correct answer: 3x1=3

- How many ones are there in 91?  
a) 92 b) 91 c) 90
- When 1 is added to a number, the sum is the \_\_\_\_.  
a) successor b) predecessor c) the number itself
- The place value of 3 in 5734 is \_\_\_\_.  
a) tens b) ones c) 3

III. Match: 3x1=3

- C - 10
- Round off 12 - 50
- $50 - 0$  - 100

IV. Answer the following: (Any 2) 2x2=4

- Rounding off to the nearest 10's.  
a) 35 b) 87
- Write the place value of each digit.  
a) 6740
- Add by expanding number.  
a)  $37 + 13$  b)  $17 + 12$
- There are 230 lions and 140 tigers in the forest. These are the only wild animals in the forest. Find the total number of wild animals in the forest.

V. Answer the following: (Any 2) 2x3=6

- a) Arrange in ascending order: 9842, 574, 989, 1243  
b) Arrange in descending order: 457, 9457, 125, 863
- In a circus show, 475 men, 346 women and 872 women were watching the show. Find how many people are watching the show altogether?
- There are 26 mathematics books, 47 English books in a cupboard. Find the total no.of books in the cupboard.

4. Arrange in columns and add the following:

- $4057 + 861 + 12$  b)  $5000 + 12 + 984$

VI. HOTS: 1x1=1

- Zero was invented by \_\_\_\_ (Aryabhatta, Ramanujam)